

-A-

PORSUK MESLEK YÜKSEK OKULU 2007-20078ÖĞRETİM YILI GÜZ YARIYIL ARA SINAV
MAK115 MAKİNA RESMİ SINAVI SORULARI

SORU 1: Daire içine düzgün beşgen çiziniz.



Öğrenci Adı Soyadı:

Okul No:

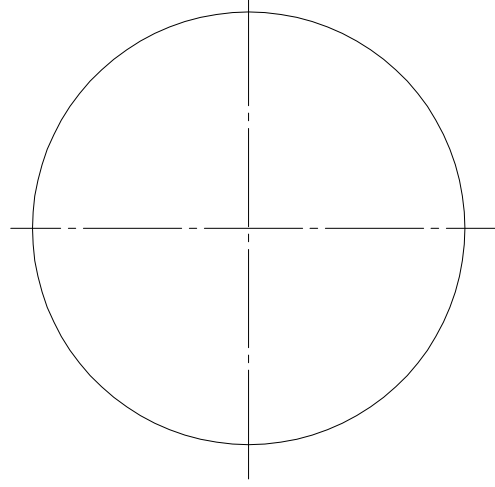
Ders Öğretmeni: A.KURT C. KARA A.ERŞAN

NOT BAREMİ:

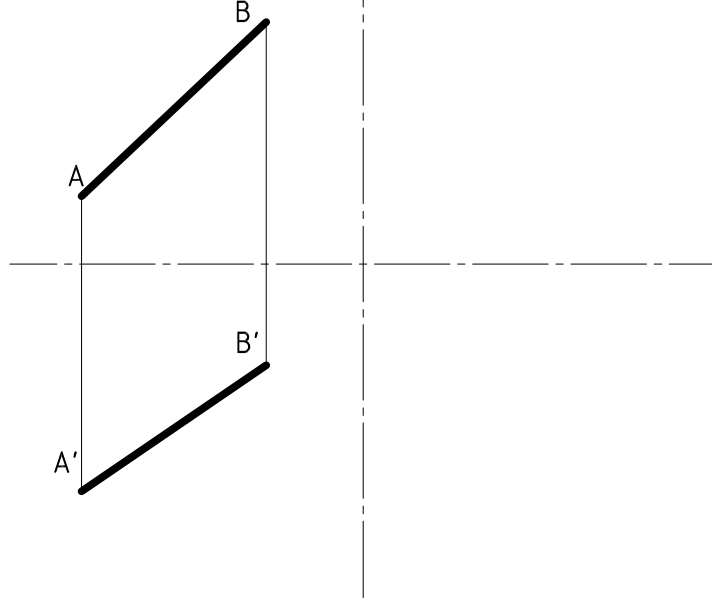
SORU 1: 30 Puan

SORU 2: 30 Puan

SORU 3: 40 Puan



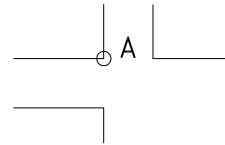
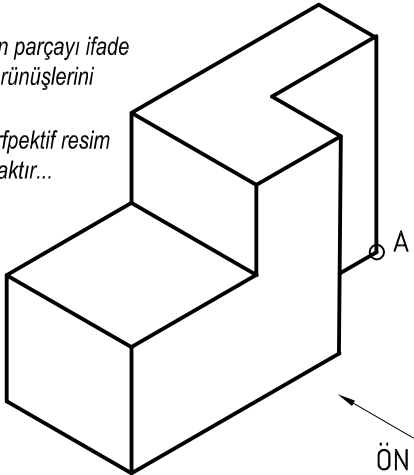
SORU 2: Alın ve Yatay görünüşü verilen doğrunun
Profil düzlemdeki görünüşünü çiziniz.



SORU

Perspektifi verilen parçayı ifade
eden standart görünüşlerini
çiziniz.

NOT: Ölçüler perspektif resim
üzerinden alınacaktır...



SÜRE: 60dk

-A-

PORSUK MESLEK YÜKSEK OKULU 2007-20078ÖĞRETİM YILI GÜZ YARIYIL ARA SINAV
MAK115 MAKİNA RESMİ SINAVI CEVAP ANAHTARI

SORU 1: Daire içine düzgün beşgen çiziniz.



Öğrenci Adı Soyadı:

Okul No:

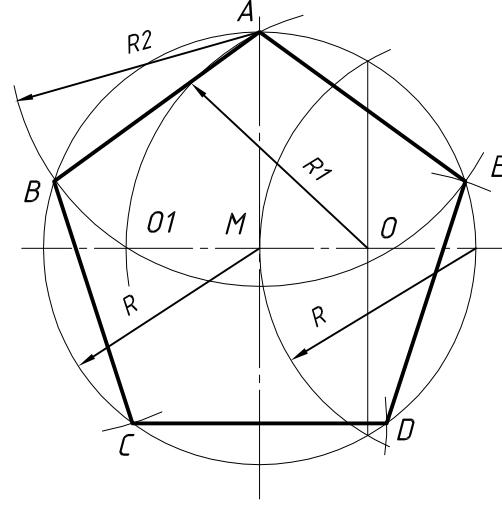
Ders Öğretmeni: A.KURT C. KARA A.ERŞAN

NOT BAREMİ:

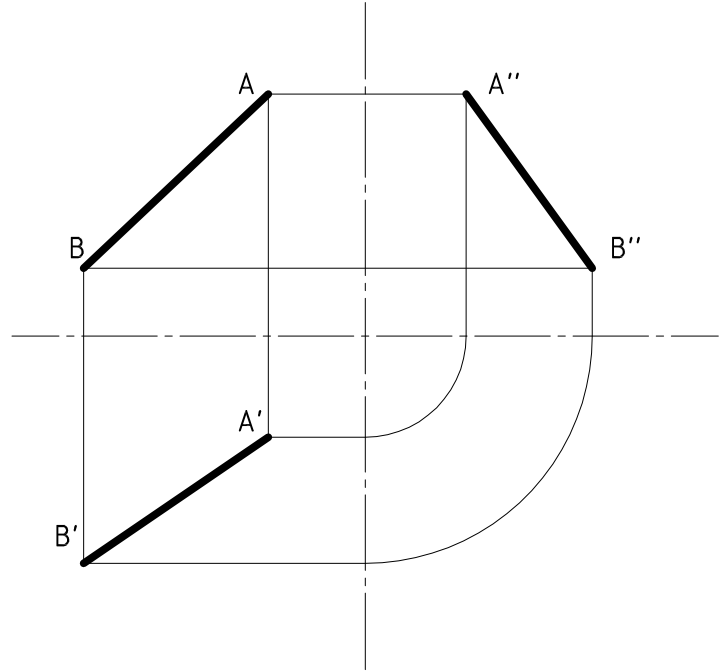
SORU 1: 30 Puan

SORU 2: 30 Puan

SORU 3: 40 Puan



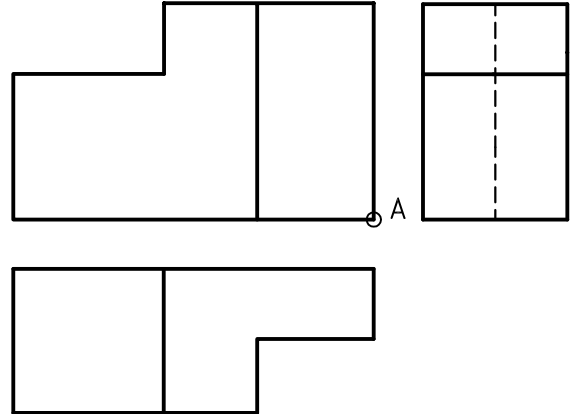
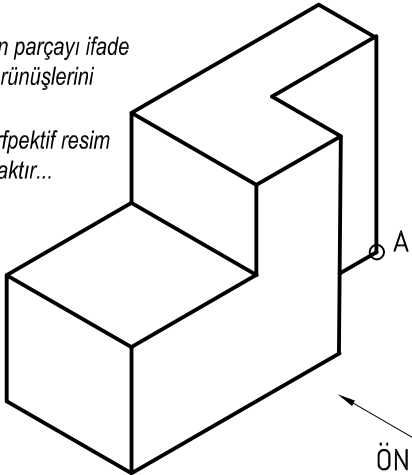
SORU 2: Alın ve Yatay görüşü verilen doğrunun
Profil düzlem izdüşümünü çiziniz



SORU

Perspektifi verilen parçayı ifade eden standart görüşlerini çiziniz.

NOT: Ölçüler perspektif resim üzerinden alınacaktır...



SÜRE: 60dk

-B-

PORSUK MESLEK YÜKSEK OKULU 2007-20078ÖĞRETİM YILI GÜZ YARIYIL ARA SINAV
MAK115 MAKİNA RESMİ SINAVI SORULARI

SORU 1: Daire içine düzgün beşgen çiziniz.



Öğrenci Adı Soyadı:

Okul No:

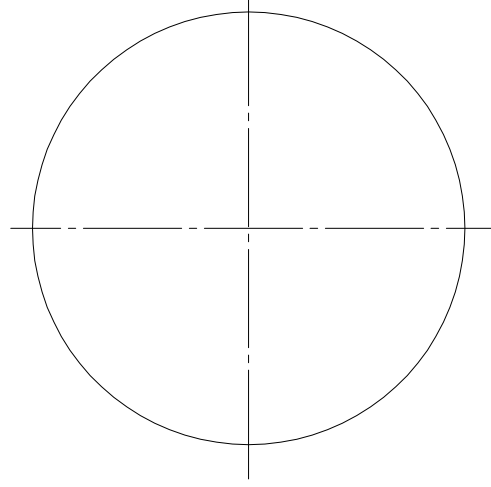
Ders Öğretmeni: A.KURT C. KARA A.ERŞAN

NOT BAREMİ:


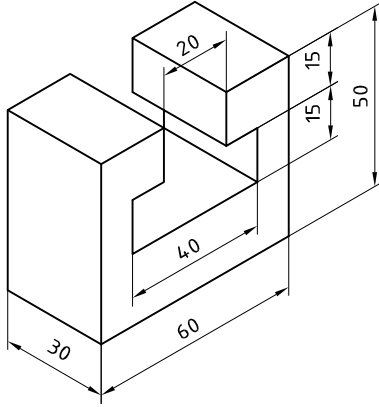
SORU 1: 30 Puan

SORU 2: 40 Puan

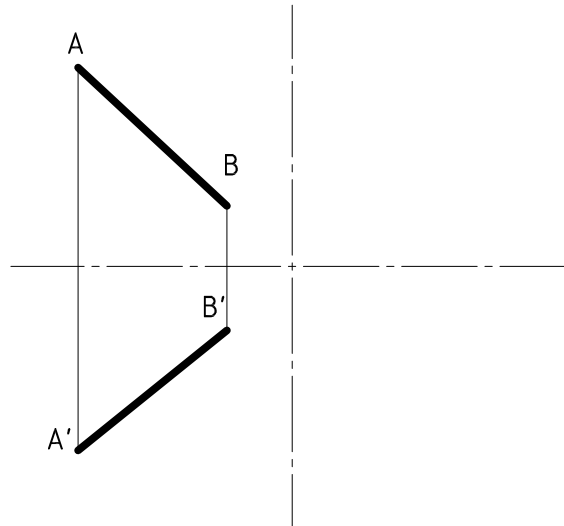
SORU 3: 30 Puan



SORU 2: Görünüşü verilen parçanın
Standart 3 görünüşünü çiziniz.



SORU 2: Alın ve Yatay
görünüşü verilen doğrunun
Profil düzlem izdüşümünü
çiziniz



SÜRE: 60dk

-B-

PORSUK MESLEK YÜKSEK OKULU 2007-20078ÖĞRETİM YILI GÜZ YARIYIL ARA SINAV
MAK115 MAKİNA RESMİ SINAVI CEVAP ANAHTARI

SORU 1: Daire içine düzgün beşgen çiziniz.



Öğrenci Adı Soyadı:

Okul No:

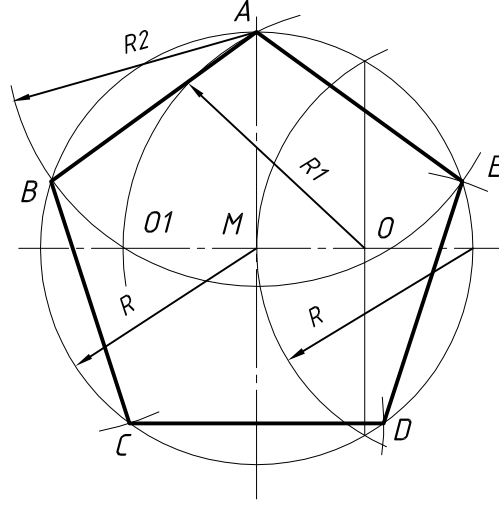
Ders Öğretmeni: A.KURT C. KARA A.ERŞAN

NOT BAREMİ:

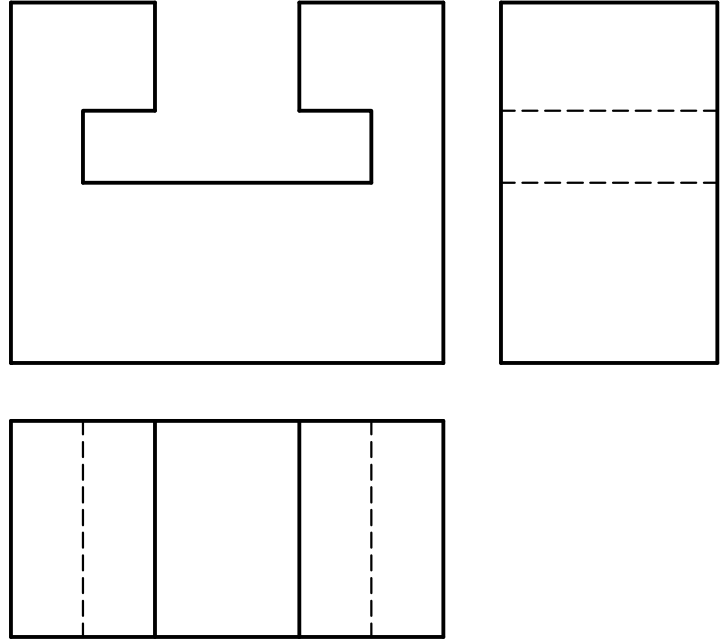
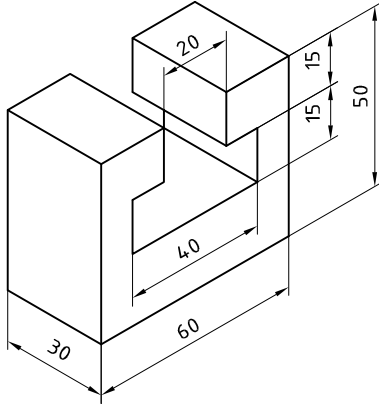
SORU 1: 30 Puan

SORU 2: 30 Puan

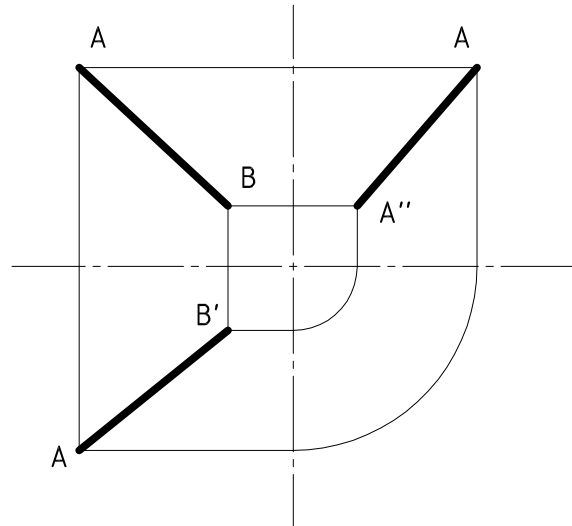
SORU 3: 40 Puan



SORU 2: Görünüşü verilen parçanın
Standart 3 görünüşünü çiziniz.



SORU 2: Alın ve Yatay
görünüşü verilen doğrunun
Profil düzlem izdüşümünü
çiziniz



SÜRE: 60dk